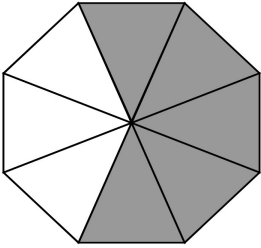


CISD Grade 2 Math Unit 16 SPANISH

Some questions (c) 2012 by CSCOPE.

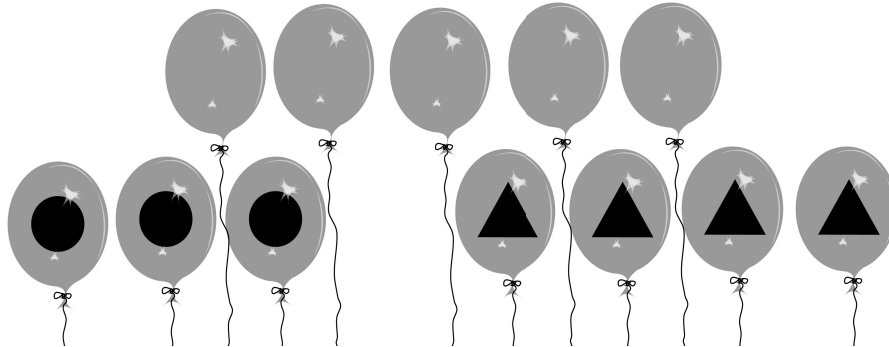
1

Emily sombrió $\frac{5}{8}$ de la siguiente figura. ¿Cuál opción de respuesta muestra qué parte de la figura NO está sombreada?



- A Tres de ocho partes no están sombreadas.
- B Cinco de ocho partes no están sombreadas.
- C Ocho de ocho partes no están sombreadas.

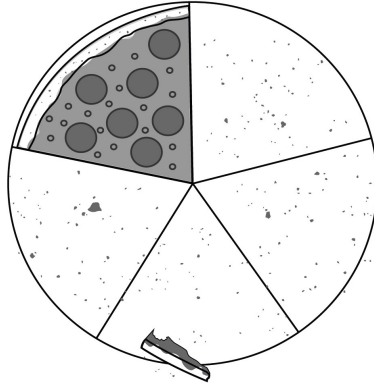
2 Para el cumpleaños de Taylor, su mamá le compró 12 globos que tienen tres diferentes figuras. ¿Qué fracción representa los globos que NO tienen figuras?



- F Cuatro doceavos de los globos no tienen figuras.
- G Cinco doceavos de los globos no tienen figuras.
- H Siete doceavos de los globos no tienen figuras.

3

Eric almorzó pizza. Se comió $\frac{4}{5}$ de la pizza. ¿Se acerca más la cantidad de pizza que se comió a 0 , $\frac{1}{2}$ o 1 ?




A 0


B $\frac{1}{2}$

C 1

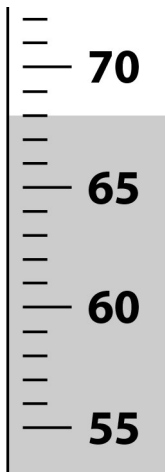
4 Dibuja las manecillas en el reloj análogo para mostrar la hora que se ve en el reloj digital.



- 5 El timbre de la escuela para la salida de los estudiantes suena a la hora que se muestra abajo. Lee el reloj análogo y marca la hora en que los estudiantes salen de la escuela.



- A 3:00
B 3:05
C 3:10
- 6 Antes de que Marco pudiera encontrar qué ponerse para ir al partido, necesitaba saber cómo iba a estar la temperatura. Lee el siguiente termómetro y determina la temperatura.




- F 65°
G 68°
H 70°


- 7 Omari tiene que estar en la práctica a las 6:15. ¿Cuál de los siguientes relojes análogos muestra la hora a la que tiene que estar en la práctica?




A



B

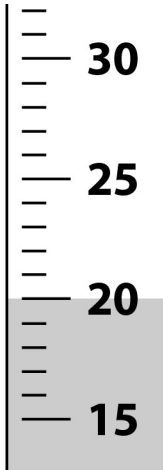


C

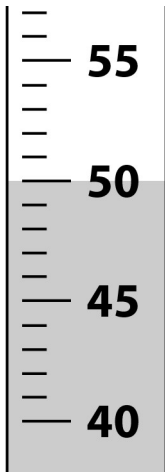


- 8 Cuando Sam se despertó, su mamá le puso unos pantalones cortos y una camisa de manga corta para que fuera a la escuela. ¿Cuál termómetro muestra la mejor estimación de la temperatura de ese día?

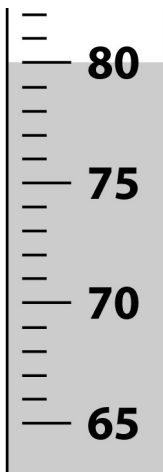
F




G



H



- 9 Jerry tenía las siguientes monedas en su escritorio. Su hermano vino y puso 3 monedas más en su escritorio. El dibujo de abajo muestra todas las monedas que Jerry tiene ahora. Cuenta las monedas para determinar la cantidad total de dinero. Escribe tu respuesta usando los símbolos correctos.



- 10 Rachel tiene 85¢ en su bolsillo. ¿Cuál cantidad muestra la cantidad de dinero que Rachel tiene en su bolsillo?

F



G



H

